

$$32 + 7 + 6 + 10 + 1 + 3 = 59$$

Всероссийская олимпиада школьников 2023-2024 учебный год

10ГЕ006

Школьный этап. География, 10-11 класс

Время выполнения 90 мин. Максимальное кол-во баллов – 79

Теоретический тур

№ задания	Правильный ответ	Кол-во баллов
1	Б	1
2	Б	1
3	Г	1
4	532164	0
5	А	1
6	45632	5
7	24	2
8	А	1
9	Лена	1
10	А6 Б3 В2 Г5	4
11	А - медь Б - алюминий В - ^{руда} марганцевая Г - никель	4
12	прогностический	1
13	АБД	3
14	В	1
15	8,6 чел/км ²	1
16	В	1
17	Г	1
18	2789 2 28 339	1
19	А	1
20	Б	1
Максимальное количество баллов		32

Практический тур

Задание №1.

Определите географический район по его характеристике

№	Вопрос	Ответы	Кол-во баллов
1.	Назовите географический район	Кавказ	2
2.	Какая река протекает по территории географического района	Волга	2
3.	Какие республики входят в состав географического района	Башкортостан, Татарстан, Чувашия, Мордовия, Дагестан, Ингушетия, Кабардино-Балкария, Северная Осетия-Алания	1
4.	Назовите основные/ведущие отрасли специализации	нефтегазовая промышленность	0

	географического района		
5.	Назовите города-миллионеры географического района	Казань, Волгоград, Самара	2
Максимальное количество баллов			7

Задание №2.

Рассчитайте ресурсообеспеченность страны.


№	Страна	Кол-во баллов	Количество лет	Кол-во баллов
1.	Россия		434,39 1	
2.	Индия		146,64 1	
3.	Бразилия	1	35,417 1	
4.	Австралия		35,417 34,4086 1	
5.	Китай		25,714 1	





Максимальное количество баллов - 10

65

Задание №3.

Определите туристический объект, его название и страну, в которой он находится. Запишите название туристического объекта и страну его нахождения.

№	Туристический объект	Название туристического объекта	Кол-во баллов	Страна нахождения туристического объекта	Кол-во баллов
1.		Коллизей	1	Италия	1

2.		<p>Гарри Котлов Армия</p>	<p>1</p>	<p>Россия Китай</p>	<p>1</p>
3.		<p>Москва-сити</p>	<p>1</p>	<p>Россия</p>	<p>1</p>
4.		<p>Пирамида Лувра</p>	<p>1</p>	<p>Франция</p>	<p>1</p>
5.		<p>Тадж-Махал</p>	<p>1</p>	<p>Индия</p>	<p>1</p>

Максимальное количество баллов – 10 баллов.

10

Задание №4.

1.

Цифра на карте	Буква название графика	Количество баллов
1	А,	0
2	Б,	0
3	Г,	1
4	В,	0
Максимальный балл		1

2. За каждую правильно заполненную ячейку по 1 баллу. Итого максимальный балл за задание – 12 баллов

Буква графика	Название населенного пункта	Название страны	Название климатического пояса
А	Сакьяго	Чили	Умеренный Субтропический
Б	Бани	Индонезия	Экваториальный
В	Москва	Россия	Умеренный
Г	Триполи 1	Ливия 1	Тропический 1

35

$$30+6+9+10+2+5=62$$

Всероссийская олимпиада школьников 2023-2024 учебный год

Школьный этап. География, 10-11 класс

Время выполнения 90 мин. Максимальное кол-во баллов – 79

17ГЕ002

Теоретический тур

№ задания	Правильный ответ	Кол-во баллов
1	б	1
2	б	1
3	2	1
4	532146	1
5	б	3
6	а4 б5 в6 г2 д3 з2	0
7	14	5
8	а	2
9	лея	1
10	а6 б1 в2 г5	1
11	а) медь б) алюминий в) марганец г) никель	3
12	протеканиями	4
13	аг	1
14	б	2
15	8,5	1
16	б	1
17	а)	1
18	2 78 5 39 000000	0
19	а)	1
20	а	1
Максимальное количество баллов		30

Практический тур

Задание №1.

Определите географический район по его характеристике

№	Вопрос	Ответы	Кол-во баллов
1.	Назовите географический район	Тюменская	2
2.	Какая река протекает по территории географического района	Вага	2
3.	Какие республики входят в состав географического района	Татарстан,	1
4.	Назовите основные/ведущие отрасли специализации	сельское хозяйство, переработка металла и газа	0

	географического района		
5.	Назовите города-миллионеры географического района	Валюград, Казань	1
Максимальное количество баллов			6

Задание №2.

Рассчитайте ресурсообеспеченность страны.


№	Страна	Кол-во баллов	Количество лет	Кол-во баллов
1.	Китай	1	26	1
2.	Австралия	1	35	1
3.	Бразилия	1	36	1
4.	Индия	1	167	0
5.	Россия	1	435	1

Максимальное количество баллов - 10

9

Задание № 3.

Определите туристический объект, его название и страну, в которой он находится. Запишите название туристического объекта и страну его нахождения.

№	Туристический объект	Название туристического объекта	Кол-во баллов	Страна нахождения туристического объекта	Кол-во баллов
1.		Коллизей	1	Италия	1

Задание №4.

1.

Цифра на карте	Буква название графика	Количество баллов
1	б	1
2	з	0
3	в	0
4	а	1
Максимальный балл		2

2. За каждую правильно заполненную ячейку по 1 баллу. Итого максимальный балл за задание – 12 баллов

Буква графика	Название населенного пункта	Название страны	Название климатического пояса
А	Москва 1	Российская Федерация 1	Умеренный 1
Б	0	Индия 1	Субтропический 1
В	0	Индия 0	Тропический 0
Г	Джакарта 0	Индонезия 0	Экваториальный 0

56